

Şekil Sayı Eşleştirme

+

= 6

▽

= 7

◇

= 4

△

= 8

○

= 9

→

= 3

×

= 2

□

= 5

☆

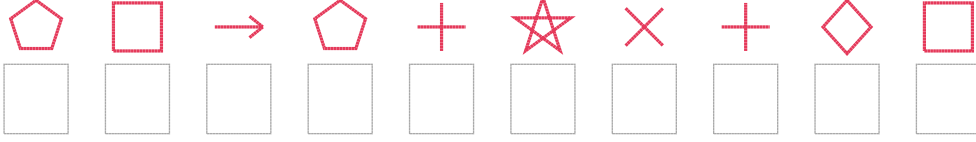
= 0

⬠

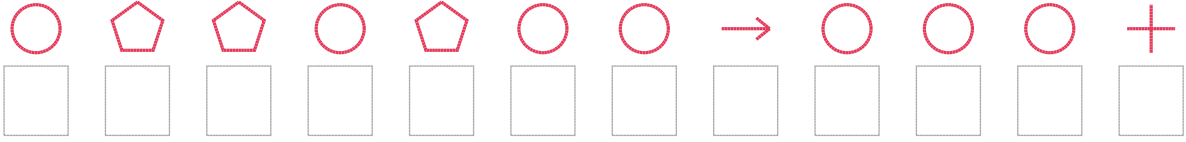
= 1

Aşağıdaki uzun şifreleri hatasız çözerek altlarına yazın:

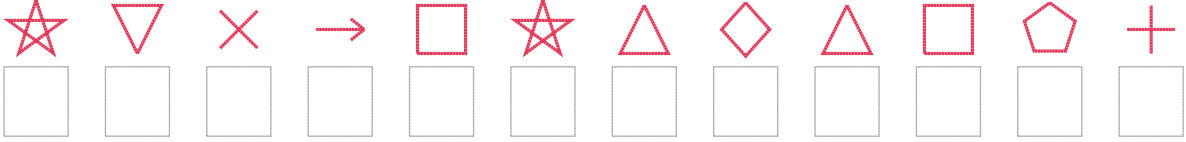
1. Şifre



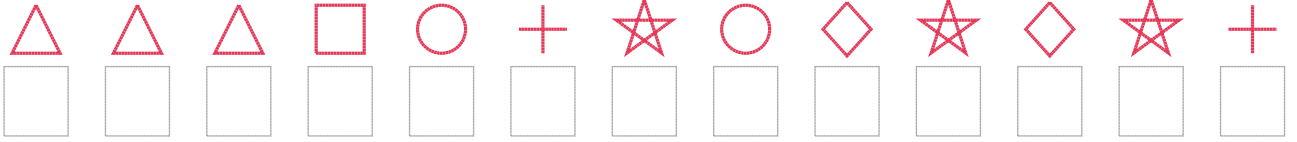
2. Şifre



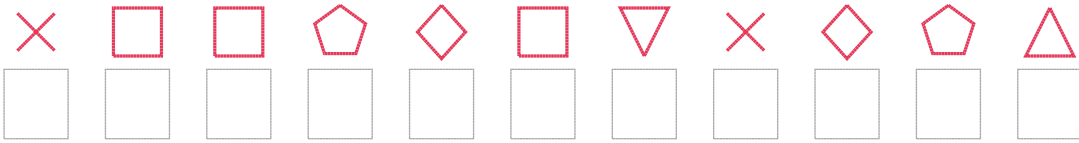
3. Şifre



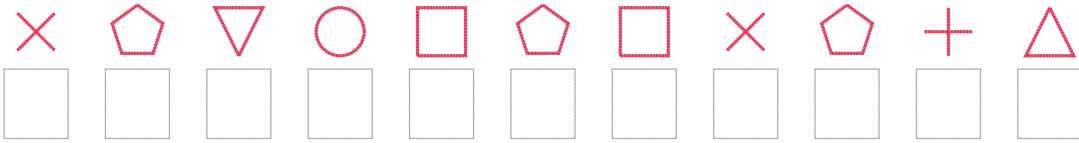
4. Şifre



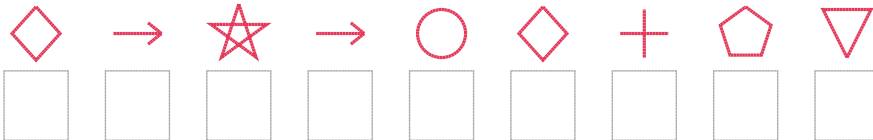
5. Şifre



6. Şifre



7. Şifre



□ BONUS: 2. ve 4. şifrenin üçüncü rakamının toplamı kaçtır?

Cevap Anahtarı

1. Şifre: 1531602645
2. Şifre: 911919939996
3. Şifre: 072350848516
4. Şifre: 8885960940406
5. Şifre: 25514572418
6. Şifre: 21795152168
7. Şifre: 430394617

□ Bonus Soru Cevabı: 9